

Всероссийская олимпиада школьников в 2021-2022 учебный год  
Школьный этап. География, 8 класс, задания  
Время выполнения 100 мин. Максимальное количество баллов – 65  
Тестовый тур

Вам предлагаются тестовые задания, требующие выбора только одного ответа из четырех возможных. Максимальное количество баллов, которое можно набрать – 15 (по 1 баллу за каждое тестовое задание). Индекс ответа, который Вы считаете наиболее полным и правильным, укажите в матрице ответов.

- На плане местности направление сторон горизонта определяются по:
  - по рамке карты
  - по направлению параллелей и меридианов
  - по стрелке Ю → С
  - никак не указываются
- Самолёт вылетел из Красноярска на Пхукет - курортный остров Таиланда, в 7-00 часов. Расстояние между пунктами 5372 км, время полёта составляет 6 час. 42 мин. Сколько будут показывать часы в аэропорту Пхукета по прибытию самолёта?
  - 7 часов
  - 6 часов 18 минут
  - 15 часов
  - 13 часов 42 минуты
- Где на Земном шаре практически в течение всего года день равен ночи?
  - на Южном тропике
  - на Экваторе
  - на Северном полярном круге
  - на Северном тропике
- Какой из перечисленных проливов разделяет между собой материки?
  - Гибралтарский
  - Мозамбикский
  - Татарский
  - Ла-Манш
- При заполнении контурной карты Евразии ученик допустил ошибку. Какой из объектов он указал неверно?
  - Мыс Челюскин
  - Мыс Итольский
  - Мыс Рока
  - Мыс Дежнёва
- Выберите неверное утверждение:
  - Самым высоким действующим вулканом на территории России является Ключевская сопка.
  - Самая крайняя северная точка России – мыс Флигели расположен на широте 81°50' с.ш. на острове Рудольфа в архипелаге Земля Франца Иосифа.
  - Самая протяжённая сухопутная граница России с Финляндией.
  - Кавказские горы относятся к молодым складчатым областям.
- Глубинные районы Евразии изучал путешественник:
  - Н.М. Пржевальский
  - Н.Н. Миклухо-Маклай
  - В.И. Вернадский
  - В.А. Обручев
- Какой полуостров известный геолог А.Е. Ферсман назвал «полуостровом сокровищ»?
  - Камчатку
  - Полуостров Таймыр
  - Кольский полуостров
  - Полуостров Ямал
- Как известно, большинство крупных рек мира берут начало в горах, истоком которых являются горные ледники. Какая из перечисленных рек берёт начало на равнине, с верхового болота?
  - Амазонка
  - Волга
  - Енисей
  - Амазонка
- Какой объект следует убрать из перечня названий географических объектов, как не соответствующего общей группе:
  - Джомолунгма
  - Ангель
  - Аюнкагуа
  - Монблан

РА-2

ИТ 11 = 905

- Выдающийся русский географ-исследователь П.П. Семёнов-Тяньшанский назвал это озеро «драгоценным аквамашином в серебряной оправе за снежных хребтов». На берегу этого озера находится могила другого знаменитого путешественника. Как называется это озеро? Вессе-Кунге
- Назовите климатический пояс, в пределах которого наблюдаются наиболее разнообразные подтипы климатов.
  - экваториальный
  - тропический
  - арктический
  - умеренный
- Автором термина «экология» является:
  - Ч. Дарвин
  - Г. Менделёв
  - Э. Геккель
  - Ж. Ламарк
- Линия перемены дат проходит по отношению к крайней восточной точке России:
  - восточнее
  - севернее
  - западнее
  - южнее
- Какая пара из стран мира омывается водами двух океанов?
  - Индия и Бразилия
  - США и Китай
  - Мексика и Венесуэла
  - Канада и Исландия

Матрица ответов

№ вопроса	1	2	3	4	5	6	7	8
Ответ								
№ вопроса	9	10	11	12	13	14	15	
Ответ								

Теоретический тур

Задание № 1. Закончите предложения. (10 баллов):


- Чрезвычайно характерный, но малочисленный вид животных только для тундр и тундро-степей крайнего севера Евразии и Северной Америки - Крестовик
- Для ландшафтов в сухих степей умеренного пояса наиболее распространённым видом животных является - крупный розовый скот
- Из деревьев африканской саванны особенно характерен - баобаб
- В дождевом тропическом лесу насчитывается множество видов растений, общей особенностью которых являются тонкие слабые стебли, которые способны подниматься вверх по деревьям. Это - мох
- К морским побережьям тропиков, полосе прилива и отлива приурочены вечнозелёные деревья и кустарники - мангровые
- То, что древние египтяне совершали плаванья через Атлантический океан в Северную Америку доказал учёный и путешественник XX века - Колумб



- 7) Красноярские «Столбы» в ноябре 2019 года приобрели новый статус - национальный парк
- 8) Атмосферные осадки, выпадающие из облаков, образовавшихся при взаимодействии тёплого и холодного воздуха, называются - грязь
- 9) Самый длинный горный ледник в России расположен в пределах горной системы .....
- 10) Участник первой русской кругосветной экспедиции на корабле «Надежда», составитель Атласа Южного моря, основатель морской академии, учредитель Русского географического общества. Пролив в северной части Курильских островов и проход в Корейский пролив носит имя .....

25

Задание № 2. На карте мира под номерами отмечены географические объекты, которые являются «самыми-самыми» по своим величинам. Укажите, что это за объекты, как они называются (10 баллов).



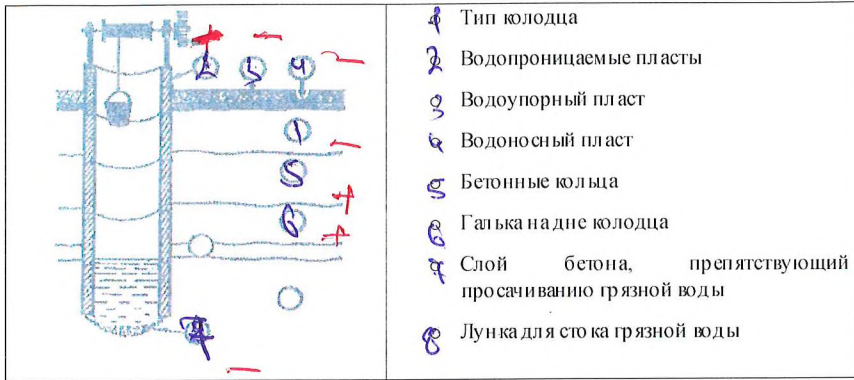
№ на карте	Самый (ая)	Название
1	самая высокая гора в Бимолье	Джомо-лунгма (Эверест)

1  
1

2		самые древние пирамиды	Египетские пирамиды
3		самая глубокая точка в океане	Марьянск
4		самый высокий водопад	Ангел
5		самый узкий пролив	Трассовый пролив Штерма

25

Задание № 3. На дачном участке решили соорудить колодец. Строители представили проект, но забыли указать на рисунке обозначения. Завершите проект колодца: назовите его тип, цифрами укажите необходимые обозначения.



Задание № 4. Учитель географии из Беларуси Т.Н. Дмитриук в стихотворении «Южная Америка» пытался запутать учеников. Зачеркните в этом стихотворении не менее 10 строчек, слов, неверно отражающих это «путешествие» по материке. В ответе запишите обоснование выбора ошибки.

Вот и Амазония!  
Еду на бизоня  
Прямо на воеток,  
Гдерека исток.

Он живёт в Бразилии,  
Педро по фамилии,  
В Кито приглашал  
Нас на карнавал.

Юркю пиранин  
Ногу мне поранили,  
Покусам спуют,  
Ходу не дают.  
Дуб араукария  
Выше разнотравия,  
Очень редкий лес,  
Много влаги здесь.

Титикака – старлица  
Вдоль дороги тянется.  
Видим склоны гор  
И соновый бор.

Проводники ао слике  
Маленького ростика –  
Коренной пигмией  
Северных корней.

А капюлька светится  
В небе ярче месяца,  
Сделали привал  
У альпийских скал.

Шлю из путешествия  
Скромное приветствие.  
Вам давать ответ:  
Правда в нём или нет?

Матрица ответов

№	Ошибка	Объяснение	Баллы
1			
2			
3			
4			

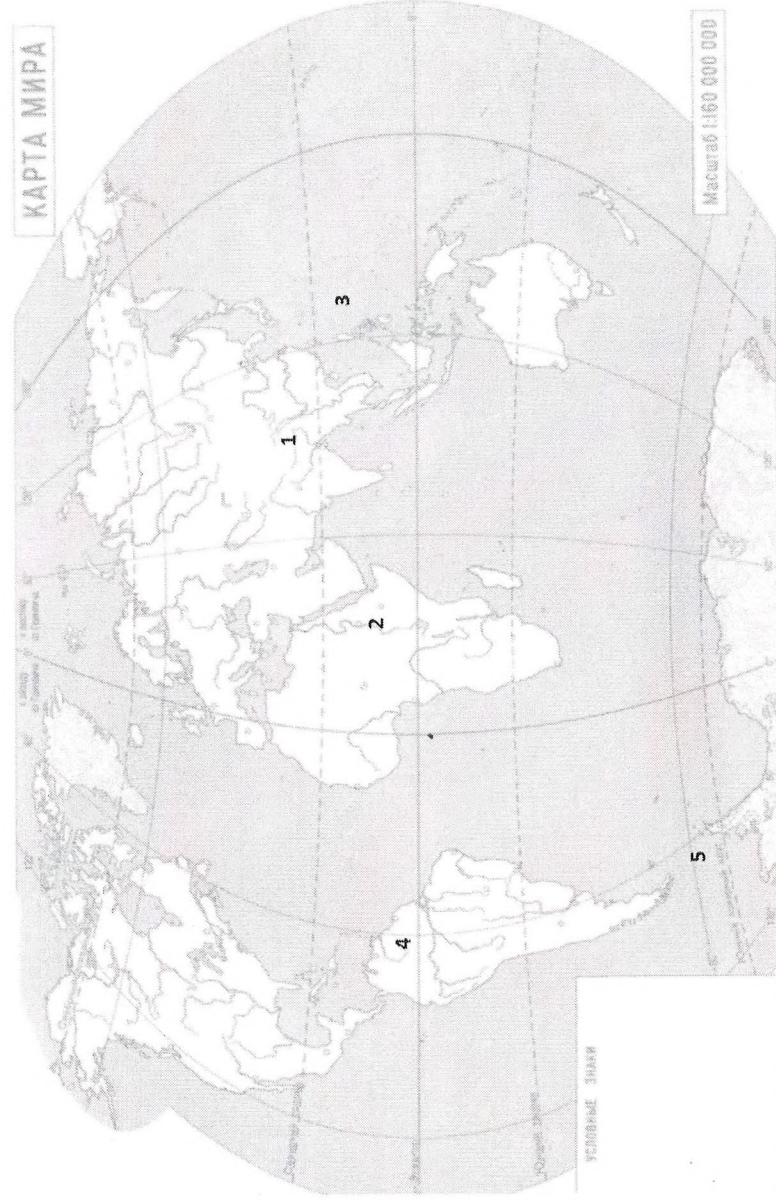
5			
6			
7			
8			
9			
10			

Задание № 5. Какое явление, процесс, группу объектов отражают перечисленные термины.

Термин	Правильный ответ	Кол-во баллов
Муссон	Ветер, меняющий в сезон дожди	0,5
Тайга	Осадки, преобладающие экваториальной	1
Дельта	возвращая течения Северного	0
Равнина	обширный простор земли	0
Цунами	морские волны (сейсмические)	1
Архипелаг	группа островов;	1
Барханы	процесс образования песчаных	0
Прерия	североамериканской прерий степи	1
Туман	скопление воды в воздухе	0
Гляциология	наука о природных льдах	1
Всего баллов		5,5



- 7) Красноярские «Столбы» в ноябре 2019 года приобрели новый статус - *Красноярские Столбы - объект всемирного наследия ЮНЕСКО*
- 8) Атмосферные осадки, выпадающие из облаков, образовавшихся при взаимодействии тёплого и холодного воздуха, называются - *тучей*.
- 9) Самый длинный горный ледник в России расположен в пределах горной системы .....
- 10) Участник первой русской кругосветной экспедиции на корабле «Надежда», составитель Атласа Южного моря, основатель морской академии, учредитель Русского географического общества. Пролив в северной части Курильских островов и проход в Корейский пролив носит имя .....
- Задание № 2. На карте мира под номерами отмечены географические объекты, которые являются «самыми-самыми» по своим величинам. Укажите, что это за объекты, как они называются (10 баллов).



№ на карте	Самый (ая)	Название
1	<i>Самый высокий верев в Тибетской</i>	<i>Эверест</i>