

84-1

Всероссийская олимпиада школьников по истории.

Школьный этап. 8 класс.

Время выполнения 60 мин. максимальное кол-во баллов – 100.

Задание 1. По какому принципу образованы ряды (2 балла за каждый правильно заполненный пропуск, максимальный балл – 6)?

1. 1478 г., 1485 г., 1510 г., 1521 г. - связаны с соборанием Русского царства
2. Отроки, бояре, люди
3. Юрьев день, урочные лета, заповедные лета - связаны с закрепощением крестьян

Задание 2. Определите имена правителей и цариц и запишите ответ таблицу. (2 балла за каждое правильно указанное имя, максимальный балл – 6)

1. «Волею судьбы она стала последней царствующей «равнородной» супругой русского монарха, которая была россиянкай. Все последующие носили титул императрицы и были иностранками по происхождению. Бракосочетание с царствующей особой изменило всю последующую жизнь Прасковьи Илларионовны. Она лишилась своего имени, отчества в угоду государственным интересам...»

- А. Евдокия Лукьяновна Стрешнева Б. Мария Ильинична Милославская
В. Наталья Кирилловна Нарышкина Г. Евдокия Федоровна Лопухина

2. «Приближенные, желая польстить правителю..., величали его «великим печальником» земли Русской. Английские наблюдатели, не найдя в своем языке соответствующего эквивалента, называли – лордом – протектором».

- А. Михаил Романов Б. Борис Годунов В. Федор Иванович Г. Василий Шуйский

3. «Отличался мягким характером, добротой и робостью. Испытал личное потрясение, когда ему исполнилось 20 лет и он выбрал себе невесту, ему не позволили на ней жениться. Вел малоподвижный образ жизни, очень любил цветы и диковинные растения, пожалуй, первым завел в России оранжерею».

- А. Алексей Михайлович Б. Иван Грозный В. Федор Алексеевич Г. Михаил Федорович

1	2	3
Г	Б	Г

Задание 3. Определите пропущенные в тексте названия, слова, имена, даты, обозначенные порядковыми номерами. При необходимости при порядковых номерах даются пояснения о характере требуемой вставки. Необходимые вставки впишите под соответствующими номерами в помещенную ниже таблицу. (2 балла за каждую правильную вставку, максимальный балл – 18)

Еще летом (1) года стало ясно, что Иван III, управившись с Казанью, разворачивает свою военно-политическую мощь на северо-запад, в сторону (2 - город). Заручившись поддержкой (3 - город), он готовится к новому удару по «северной Флоренции»...

Средоточие антимосковских настроений был тогда расположенный на Неревском конце дом посадника (4 - фамилия). Сам хозяин к этому времени уже отошел в лучший мир. Делами заправляла его вдова — властная и энергичная (5 - имя). Под ее рукой находились взрослые сыновья Дмитрий и Федор — такие же непримиримые враги Москвы, как и их мать. Вокруг них сплотилась та часть (6 - правящий в городе социальный слой), которая понимала, что на сей раз речь идет не о каких-то частых уступках великому князю Московскому, а о самом существовании республики.

Не желавшие покориться надвигающейся московской диктатуре (равно как и терять свои исконные права и привилегии) видели единственный выход в том, чтобы обратиться за помощью к другому монарху — королю (7 - страна) – (8 - имя).

Получив грамоту великого князя тот в весьма высокомерном тоне призывал нареченного (9 – церковный сан) Феофила в Москву на поставление, патриоты «начаша нелепаа, и развращенная глаголати и на вече приходящи кричати: «Не хотим за великого князя Московского, ни зватися отчиною его».

Ответы		
1 1478	4 Борисуков	7 Пальма
2 Ковчег	5 Марфа	8 Казимир
3 Псков	6 Саврогва	9 Сискоу

Задание 4. Расположите события в хронологической последовательности, внося свой ответ в таблицу (2 балла за каждый правильный ответ, максимальный балл – 12):

- А) Оборона Смоленска от войск Сигизмунда Вазы
Б) Венчание Михаила Романова на царство
В) Создание английской ост-индской компании
Г) Создание Второго ополчения К. Мининым и Д. Пожарским
Д) Смерть Елизаветы Тюдор
Ж) Сражение при Добрыничах

1	2	3	4	5	6
В	Е	Ж	А	Г	Б


Задание 5. Соотнесите отрывок из стихотворения и имя исторического деятеля, которому оно посвящается, поставьте цифры, обозначающие название документа в том порядке, в каком расположены отрывки. (1 балл за каждое правильно установленное соответствие, максимальный балл – 4 баллов)

А. Но совершить не успел он того, что хотел, И не то ему пало на долю; И расправой крутой, да кровавой рукой Не помог он народному горю. Не владыкою был он в Москву привезен, Не почетным пожалован гостем, И не ратным вождем, на коне и с мечем, Он сложил свои буйные кости.	1. Иван Сусанин
Б. О, мощный властелин судьбы! Не так ли ты над самой бездной. На высоте, уздой железной Россию поднял на дыбы?	2. Лжедмитрий I
В. «Куда ты ведешь нас?.. Не видно не зги!»- Герою в сердцах закричали враги: -«Мы вязнем и тонем в сугробинах снега, Нам, знать, не добраться с тобой до ночлега. Ты сбился, брат, видно, нарочно с пути, Но тем Миханла тебе не спасти!»	3. Степан Разин
Г. Возможно ли? Расстрига, беглый инок На нас ведет злодейские дружины...	4. Пётр I

Ответ			
А	Б	В	Г
3	4	1	2



3.



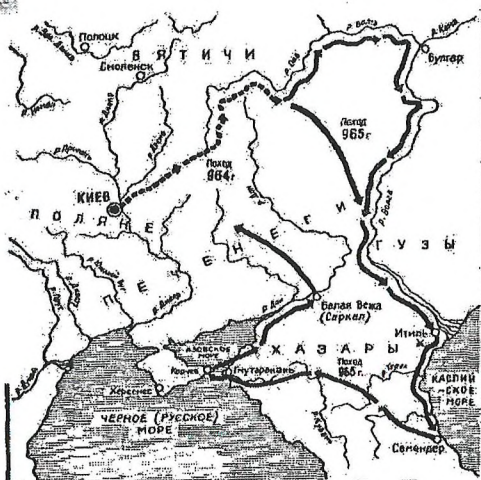

4.

Номер иллюстрации	Событие	Век	Историческая личность
1	Создание Санкт-Петербургской ^{Крещенской}	17	Петр I
2	Великой Смуты	16	Иоанн Морозов
3			
4			

95

558.

Задание 6. Перед Вами четыре пронумерованных изображения и карта. Внимательно рассмотрите их и ответьте на вопросы (максимальный балл – 14 баллов).



1. Определите, кто изображен на каждом портрете. (2 балла за каждый правильный ответ)

1. Святослав Игоревич
2. Александр Суворов
3. Андрей Дубенский
4. Юрий

2. Укажите порядковый номер изображения человека, возглавившего поход, карта которого помещена ниже. (1 балла за правильный ответ). Ответ _____

3. Какое значение имел данный поход? (1 балла за правильный ответ)

Ответ _____

4. Куда был направлен последний поход полководца и чем он закончился? (максимум 4 балла)

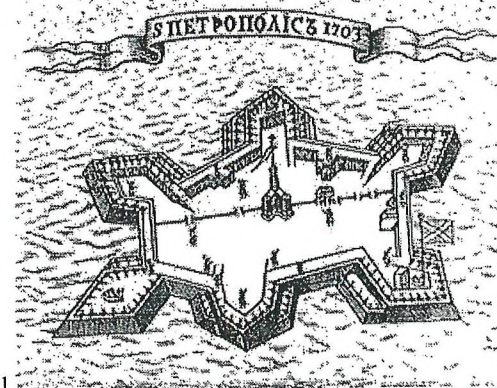
Ответ _____

Задание 7. Решите историческую задачу (за ответ на первый вопрос 2 балла, за ответ на второй вопрос 2 балла, максимальный балл - 4).

Острог, построенный казаками Андрея Дубенского в 1628 года, представлял собой, укрепленную территорию, окружность более 191 сажень (около 410 м), которую окружали стены высотой более 3-х метров, усиленные пятью башнями - Качинской, Угольной, Быковской, Спасской, Водяной, по 18-20 метров высотой каждая. Над возвышающейся над острогом горе Кум-Тигей была построена бревенчатая вышка.

1. Назовите современное название горы Кум-Тигей _____
2. Какие современные постройки могут быть ориентирами расположения построенного в 1628 году острога _____

Задание 8. Перед Вами известные картины и изображения, изображающие события всемирной и русской истории. Рассмотрите их внимательно и выполните задания. Укажите, какому событию посвящена каждая из картин, укажите, в каком веке происходили данные события, и назовите историческую личность, принимавшую участие в этом событии. Ответ внесите в таблицу (за каждое правильный ответ 3 балла, максимальный балл – 36 баллов).



2.