

Всероссийская олимпиада школьников 2021-2022 учебный год
Школьный этап. История, 7 класс, задания.
Время выполнения 60 минут. Максимальное количество баллов – 100.

Задание №1. Выберите один правильный ответ. (За каждый правильный ответ – 1 балл, максимальное количество баллов за задание – 5 баллов). Примерное время выполнения – 5 минут.

- 1.1. Укажите дату окончания истории Древнего мира и начала истории Средних веков.
15 А) 476 г. Б) 395 г. В) 410 г. Г) 1453 г.
- 1.2. Какое из перечисленных понятий НЕ является названием органа сословного представительства, возникшего в Средневековье?
- А) кортесы В) духовный орден
Б) Генеральные штаты Г) парламент
- 1.3. О какой исторической личности идет речь? Старший сын короля Пипина Короткого, создал на территории нынешней Франции большое и сильное государство. После 33 военных походов, проведя чуть ли не всю жизнь в седле, он смог распространить свою власть на территорию почти всей Западной Европы.
А) Хлодвиг В) Карл Великий 15
Б) Юстиниан I Г) Иоанн Безземельный
- 1.4. Прочитайте отрывок произведения и укажите князя, о котором в нём идет речь. «Через год пошёл войной на Корсунь. Корсуняне же крепко сражались из города. Тогда он сказал: “Если не сдадитесь, буду стоять три года”. Они же не послушались и стояли шесть месяцев. А в Корсуне был человек, по имени Анастас, он написал на стреле и пустил её к этому князю: “К колодцу в восточной стороне города по трубам поступает в город вода; перекопав, переймёшь её”».
- А) Олег Вещий В) Владимир Святой
Б) Владимир Мономах Г) Ярослав Мудрый
- 1.5. В каком году в нашей стране отмечали 75-летие Победы в Великой Отечественной войне?
А) 2015 году В) 2010 году
Б) 2020 году Г) 2005 году

1.1	1.2	1.3	1.4	1.5
а 15	б	в 15	г	д

Задание №2. Выберите несколько правильных ответов. (За каждый правильный ответ – 1 балл, максимальное количество баллов за задание – 6 баллов). Примерное время выполнения – 4 минуты.

- 2.1. Выберите события, относящиеся к периоду феодальной раздробленности Руси.
А) Битва на р. Калка Г) основание Москвы
Б) Крещение Руси Д) Походы на Константинополь князя Игоря
В) Ледовое побоище Е) Строительство Софийского собора в Новгороде

а	б 15	в	г
---	------	---	---

2.2. Какие из перечисленных улиц города Красноярск названы в честь космонавтов?

- А) имени Водяникова Г) имени Тотмина
- Б) имени Николаева Д) имени Быковского
- В) имени Терешковой Е) имени Цукановой

а	б	в 15	г
---	---	------	---

Задание №3. По какому принципу образован ряд? (За каждый полный ответ – 3 балла, за ответ, требующий дополнения – 1 балл, максимальное количество баллов за задание – 9 баллов). Примерное время выполнения – 6 минут.

3.1. «Сказание о Мамаевом побоище», «Слово о погибели земли русской», «Задонщина».

3.2. Финифть, зернь, чернь, скань.

3.3. Рязуев Борис Яковлевич, Поздеев Андрей Геннадьевич, Суриков Василий Иванович.

Задание №4. Выберите лишнее понятие из списка. Кратко поясните свой выбор. (За правильный ответ – 2 балла, за пояснение – 2 балла, максимальное количество баллов за задание – 8 баллов). Примерное время выполнения – 4 минуты.

4.1. Папа, аббаты, рыцари, епископы, монахи.

4.2. Поляне, северяне, радимичи, варяги.

Задание №5. Восстановите хронологическую последовательность дат и событий. Запишите ответ в виде последовательности номеров в задании. (За каждую правильную последовательность – 4 балла, если верная последовательность восстанавливается путём перестановки любых двух, стоящих рядом, символов – 2 балла, максимальный балл за все задание – 8 баллов). Примерное время выполнения – 6 минут.

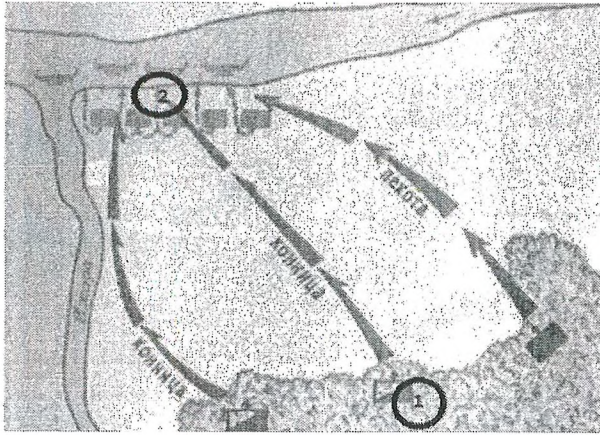
- 5.1. 1) IX в.; 3) I век до н.э.; 5) 1240 г.;
2) 476 г. до н.э.; 4) 988 г. 6) II век до н.э.

2	6	3	4	1	5
45	45	45	-		45

- 5.2. 1) Падение Византийской империи;
2) Возникновение Английского парламента;
3) Столетняя война;
4) Распад Франкской империи;
5) Созыв Генеральных штатов во Франции;
6) Возникновение государств у арабов.

4	1	5	6	3	2
---	---	---	---	---	---

Задание №6. Перед Вами изображения знаменитых памятников русской архитектуры до конца XV века. Заполните таблицу: во вторую колонку таблицы запишите название изображённого архитектурного памятника, в третью колонку таблицы запишите имя правителя (князя, царя), при котором соответствующий памятник был создан. (За каждый верный элемент ответа – 2 балла, максимальный балл за все задание – 16 баллов). Примерное время выполнения – 8 минут.



9.1. Назовите битву, схема которой представлена выше. Укажите год, когда она произошла.

Битва на реке Альте 1235г 10

9.2. Назовите государство, расположение войск которого обозначено цифрой «2». Укажите имя и отчество или прозвище полководца, который командовал войском, отмеченном на схеме цифрой «1».

1 - Александр Невский 2 - Великое 10

9.3. Назовите еще одно сражение, в котором русские войска одержали победу под руководством этого князя. Укажите год, когда она произошла. Как в русской летописи назван боевой порядок противника, который имел форму клина?

Ледовое побоище 1240г 10

9.4. Назовите имя герцога, возглавившего войско противника, обозначенного цифрой «2».

Братислава - Герцог 10

Задание 10. Прочитайте предложенный текст и ответьте на вопросы к нему. (За верный ответ на вопрос 10.1. – 3 балла, за каждый элемент ответа на вопрос 10.2 по 2 балла, за каждый элемент ответа на вопрос 10.3 по 3 балла, максимальное количество баллов за задание – 13 баллов).

Примерное время выполнения – 8 минут.


В лето 1097 пришли Святополк, и Владимир, и Давид Игоревич, и Василько Ростиславич, и Давыд Святославич, и брат его Олег и собрались в (...) для устроения мира. И обращались к себе, говоря: «Зачем губим Русскую землю, сами на себя вражду воздвигаем, а половцы нашу землю терзают на части и радуются, что между нами войны и доньяне. С этого времени соединимся в одно сердце и будем охранять русские земли. Пусть каждый держит отчину свою...» и на том целовали крест: «Если кто пойдет на кого, то на того будем все...» и, принеся клятву, разошлись восвоися...

10.1. В каком жанре написан текст?

10.2. О каком событии идет речь? Каковы последствия этого события?

10.3. Что означают выражения «целовать крест», «отчина»?


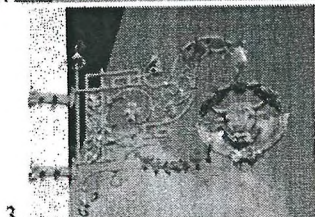

Целовать крест - быть посвященным Богу, свое будущее 30
отчина - родина 30



15 15 15 15 15 15

1	2	3	4	5	6	7	8	9	10	11	12	13	14
8	11	13	4	7	14								

Задание №8. Рассмотрите изображения вывесок в средневековом городе и выполните задания. (За каждый правильный элемент ответа в 1 и 3 вопросах – по 1 баллу, за ответ на 2 вопрос – 3 балла, максимальное количество баллов за задание – 10). Примерное время выполнения – 5 минут.



Буквенное обозначение архитектурных памятников	Название	Имя правителя (князя, царя)
15 А	Соборный собор	
Б		
В		
Г		

Задание №7. Заполните пробелы в тексте, используя предложенные варианты. Ответ оформите в виде перечня элементов под соответствующими номерами. (За каждый правильно заполненный пробел – 1 балл, максимальное количество баллов за задание – 14). Примерное время выполнения – 8 минут.

Создателем Монгольского государства является 1. Первая битва между монголами и русским произошла на реке 2 в 3 году. Новый поход монголов был организован ханом 4 в 5 году. Первым пало 6 княжество, затем войска завоевателей вторглись в 7 княжество, князь которого 8 погиб в сражении 9. «Злым городом» монголы назвали город 10. Через год монголы разорили 11 княжества и дошли в Европе до 12 моря, а затем не стали возвращаться в Азию, а создали государство под названием 13 со столицей 14.

- 1) Владимиро-Суздальское
- 2) Адриатическое
- 3) Козельск
- 4) Батый
- 5) Сарай
- 6) Золотая Орда
- 7) 1237 год
- 8) Чингисхан (Темучин)
- 9) Юрий Всеволодович
- 10) южные (Черниговское, Переяславское, Киевское),
- 11) Калка
- 12) река Сить
- 13) 1223 год
- 14) Рязанское

- 8.1. Назовите профессии людей, вывески чьих мастерских или лавок здесь изображены.
- 8.2. Укажите общее название организаций, в которые объединялись средневековые ремесленники.
- 8.3. Назовите уровни иерархической структуры в этих организациях.

8.1	8.2	8.3
1. кузнец 15 2. сапожник 30 3. мясник 15 4. рыбак	1. цеховые 2. мастерские 3. мясное производство 4. торговля рыбой	

Задание №9. Внимательно рассмотрите схему и выполните задания. (За полный ответ на задания 9.1 и 9.2 – по 2 балла, за задание 9.3 – 4 балла, за задание 9.4 – 3 балла, максимальное количество баллов за задание – 11). Примерное время выполнения – 6 минут.