

Ц 4

1. Ситуация накануне какой битвы описана ниже? 1 балл за верный ответ

«Пришла неслыханная рать, безбожные моавитяне, называемые татары, их же никто ясно не знает, кто они и откуда пришли... Мы слышали, что многие страны попленили татары: ясов, обезов, касогов; и половцев безбожных пленили множество... Котян, хан половецкий, ... пришёл он с князьями половецкими в Галич с поклоном к князю Мстиславу, к зятю и ко всем князьям русским...»

- 1) Битва на р. Ведрошь 2) Битва на р. Калка 3) Битва на р. Липица 4) Битва на р. Шелонь

25.

Ответ:

2. Укажите имена государственных и религиозных деятелей, составлявших окружение первого русского царя. 2 балла за верный ответ

- 1) А. Курбский 2) А. Адашев 3) Митрополит Алексей 4) Протопоп Сильвестр 5) Ф. Шаковитый 6) Б. Морозов

Ответ:

1	2	4
---	---	---

48.

3. По какому принципу образованы ряды? Дайте максимально точный ответ. По 2 балла за каждый верный ответ. Всего 6 баллов.

1. Лютеранство, кальвинизм, пресвитерианство *религия в различных странах*  
2. Австралия, Новая Зеландия, Индия, Канада  
3. Колумб, Васко де Гама, Фернан Магеллан *знаменитые первооткрыватели*  
4. Выберите лишнее понятие из списка. Кратко поясните свой выбор. По 2 балла за каждый верный ответ. Всего 6 баллов.

25.

- 8.1. «Домострой», «Великие Чети Минеи», «Степенная книга», «Повесть о Горе-Злочастии» *не худож.*  
8.2. Кирасиры, егеря, гусары, драгуны *не воины*  
8.3. Зернь, скань, филигрань, чернь, фреска *не худож. вещ.*

5. Расположите в хронологической последовательности перечисленные события: По 1 баллу за каждый верный ответ. Всего 6 баллов.

- А) начало правления последнего царя из династии Рюриковичей  
Б) начало двоецарствия Петра I и Ивана V  
В) начало правления династии Стюартов в Англии  
Г) начало Великой Французской революции  
Д) освоение Сибири Ермаком  
Е) начало Реформации в Германии

Ответ:

А	Б	Д	В	Г	Е
---	---	---	---	---	---

15.

6. Установите соответствия между учебным заведением и правителем, при котором оно было открыто. Запишите в таблицу выбранные цифры под соответствующими буквами.

По 1 баллу за каждое верное соотношение. Всего 5 баллов.

УЧЕБНОЕ ЗАВЕДЕНИЕ	ПРАВИТЕЛЬ
А) Московский университет	1) Царевна Софья
Б) Славяно-греко-латинская академия	2) Пётр I
В) Навигацкая школа	3) Анна Иоанновна
Г) Смольный институт	4) Елизавета Петровна
Д) Сухопутный шляхетский корпус	5) Екатерина II

Ответ:

А	Б	В	Г	Д
4	1	2	5	3

56.

7. Определите пропущенные в тексте названия, слова, имена, даты, обозначенные порядковыми номерами. При необходимости при порядковых номерах даются пояснения о характере требуемой вставки. Необходимые вставки впишите под соответствующими номерами в помещённую ниже таблицу. Всего 15 баллов.

Алексей Михайлович скончался 30 января (1) г. Земский собор «назвал» московским государем 14-летнего (2 – имя и отчество). При нём прежнего силу при дворе приобрели (3 – фамилия боярского рода), потеснённые было роднёй царицы Натальи Кирилловны Нарышкиной. Самой важной реформой, проведённой при (2), стала отмена (4 – название явления). (2) скончался 27 апреля (5) года. Наследниками были его 16-летний брат (6 – имя) и 10-летний единокровный брат (7 – имя). При поддержке Н.К. Нарышкиной царём объявили (7). Однако царевна (8 – имя), сестра покойного царя, всячески пыталась посадить на престол своего родного младшего брата, а управление государством взять в свои руки. Ей это удалось после майских событий (5) года, отраженных в знаменитой опере М.П. Мусоргского, которые вошли в историю под названием (9 – название). В ходе этих событий стрельцы с пушками и знаменами двинулись к Кремлю, где обвинили Нарышкиных в гибели царевича (6) и убили близкого к Алексею Михайловичу человека, воспитателя Натальи Кирилловны и царевича (7) – боярина (10 – фамилия). В конце концов (6) и (7) вместе были венчаны на царство, однако главным царём считался старший брат. (7), его мать и родня отправились в почётную ссылку в подмосковное село (11 – название села). Царевна (8) же стала (12 – название должности) – правительницей государства при малолетних братьях.


Первым человеком при царевне-правительнице стал князь (13 – фамилия), по словам Куракина, «амур» и «галант» царевны. Он являлся главой Посольского приказа, но фактически и внутренние дела вершили по его совету. По его инициативе в 1687 г. в Москве было открыто первое высшее учебное заведение. Во внешней политике самыми крупными событиями стали заключение в (14) г. «Вечного мира» с Речью Посполитой и два (15 – название) похода в 1687 и 1689 гг.

Ответ:

1	1626	9	
2	Федор Алексеевич	10	
3		11	
4	мещинство	12	
5		13	
6	Швайн	14	1686
7	Петр	15	
8			

55.

8. Перед Вами фотографии известных храмов России. Расставьте их в хронологической последовательности в соответствии с временем их строительства и заполните таблицу, указав ОФИЦИАЛЬНОЕ название храма. Всего за задание 12 баллов. По 4 балла за каждый правильно заполненный столбец.



1. 2.

12. ТВОРЧЕСКОЕ ЗАДАНИЕ (эссе 25 баллов).

При написании эссе следует исходить из следующих критериев:

1. Обоснованность выбора темы (объяснение выбора темы и задач, которые вы ставите перед собой в своей работе).
2. Творческий характер восприятия темы, ее осмысления.
3. Грамотность использования исторических фактов и терминов.
4. Четкость и доказательность основных положений работы.
5. Знание различных точек зрения по избранному вопросу.

1. «Петровские преобразования сохранили российскую элиту, но привели к ломке привычных структур, вместе с которыми утрачивались её «исторические предания» и традиции» (И. В. Курукин)
2. «Жестоко расправляясь со своими противниками из числа других русских князей, не брезгуя для этого татарской помощью, Калита добился значительного усиления могущества Московского княжества» (Л. В. Черепнин)
3. «Опричная «затея» являлась крупной государственной реформой». (С. Ф. Платонов)
4. «Одной ногой он еще крепко упирался в родную православную старину, а другую уже занес было за черту, да так и остался в этом нерешительном переходном положении» (В. О. Ключевский об Алексее Михайловиче)
5. «Основная линия политики монголов побуждала их поддерживать политический сепаратизм на Руси. Образование централизованного государства явилось, таким образом, отнюдь не в результате мирной деятельности монголов-завоевателей, а в результате борьбы с монголами, когда борьба стала возможна, когда Золотая Орда стала слабеть и разлагаться». (А. Н. Насонов)

«Петровские преобразования сохранили российскую элиту, но привели к ломке привычных структур, вместе с которыми утрачивались её «исторические предания» и традиции.» Петр I был человеком который кординально изменил Россию и её историю, принес в неё европейские технологии и технологии.

Петр I когда был ребенком был заинтересован в иностранных игрушках, оружии, и войсках. Он создал новые потешные полки из простого народа, которые в дальнейшем стали первыми частями российской лейб-гвардии и преобразованными полками. Когда правитель вырос он отправился в европейские страны изучать артиллерию, строительство и ткацкое дело. Там он был неформально развлекался итил и курил и перенял местные нравы.


«Жестокость в отношении противников и сделав Россию выход к Балтийскому морю, Орлом и перевести культуру Европы в Россию. Он не сильно изменил страну, но изменил все традиции. Резал борода и т.д.

Он считал что Европа более развита и из-за этого и ввезли европейские новшества. Пок- все Петр сильно реформировал армию. Сделал привычную систему и простой крестьянин мог попасть в армию возвышится по службе и получить землю слав дворянством. Сделал рабовладельческий флот.

Он ввез в Россию культуру и основал город на его берегах Санкт-Петербург. Комарово построил по европейским стандартам.

88.

348.



Таблица

А	Кушкеская Битва. 1379	
Б	2, 1	1
В	5	
Г	6	
Д	5	1
Е		

10. Их лепили всей семьей, затем сушили в печи или замораживали. А ели с маслом, со сметаной, уксусом. Как писал Н. М. Ядринцев: «Их поглощают в невероятном количестве...» О каком традиционном блюде красноярцев идет речь? 1 балл. *пельмени*

11. Внимательно изучите представленный ниже фрагмент исторического источника и выполните задания. (15 баллов)

«В прошедшую с Портой Оттоманской войну, когда силы и победы оружия нашего давали нам полное право оставить в пользу нашу Крым, в руках наших бывший, мы сим и другими пространными завоеваниями жертвовали тогда возобновлению доброго согласия и дружбы с Портой Оттоманской, преобразив на тот конец народы татарские в область вольную и независимую...»

Но ныне, когда, с одной стороны, приемлем в уважение употребленные до сего времени на татар знатные издержки, простирающиеся за двенадцать миллионов рублей, не включая тут потерю людей, которая выше всякой денежной оценки; с другой же, когда известно нам учинилось, что Порты Оттоманская начинает исправлять верховную власть на землях татарских, и именно... чиновник ее, с войском прибывший, присланному к нему от Шагин-Гирея хана с вопрошенном о причине его прибытия, публично голову отрубить велел и жителей тамошних объявил турецкими подданными... Поступок сей уничтожает прежние наши взаимные обязательства о вольности и независимости татарских народов... и поставляет нас во все те права, кои победами нашими в последнюю войну приобретены были и существовали в полной мере до заключения мира. И для того, по долгу предлагаемого нам попечения о благе и величии отечества, стараясь пользу и безопасность его утвердить, как равно полагая средством навсегда отдалающим неприятные причины, возмущающие вечный мир между империями Всероссийской и Оттоманской заключенный, который мы навсегда сократить искренно желаем, не меньше же и в замену и удовлетворение убытков наших решились мы взять под державу нашу полуостров Крымский, остров Тамань и всю Кубанскую сторону.

Возвращая жителям тех мест силою сего нашего Императорского Манифеста таковую бытия их перемену, обещаем свято и непоколебимо за себя и преемников престола нашего, содержать их наравне с природными нашими подданными, охранять и защищать их лица, имущество, храмы и природную веру, коей свободно отправление со всеми законными обрядами пребудет неприкосновенно; и дозволить напоследок каждому из них состоянию все те прелести и преимущества, каковыми таковое в России пользуется; напротив чего от благодарности новых наших подданных требуем и ожидаем Мы, что они в счастливом своем презрении из мятежа и неустройства в мир, тишину и порядок законный потщатся верностью, усердием и благонравием уподобиться древним нашим подданным и заслуживать наравне с ними монаршую нашу милость и щедроту».

11.1. Назовите территорию, присоединение которой к Российской империи утвердил данный документа. Напишите, в каком году был издан данный документ.

11.2. Укажите имя российского монарха, подписавшего документ, а также годы его правления.

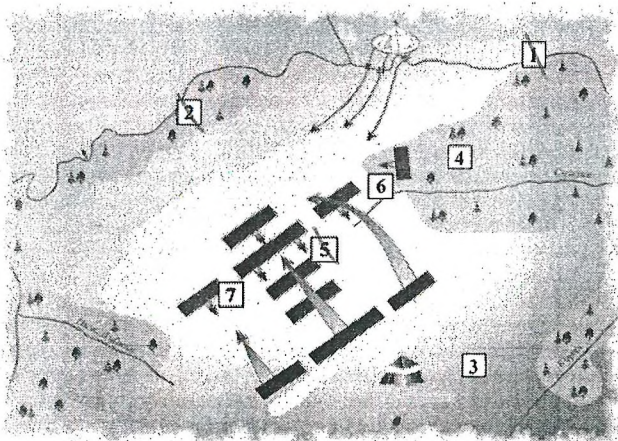
11.3. Каковы были причины присоединения к Российской империи новой территории? Найдите в тексте и укажите три положения.

11.4. Какие обязательства брал на себя монарх в отношении присоединенных народов? Опираясь на текст, укажите три положения.

11.5. Найдите в тексте и выпишите фрагмент, показывающий ожидания монарха в отношении своих новых подданных. Опираясь на собственные знания, объясните, почему воплощение этих ожиданий в жизнь представляет для монарха особую важность.

Порядковый номер иллюстрации	Название храма	Событие, которому посвящён храм
1	Церковь Вознесения Господня в Колодевках	
2	Храм Василия Блаженного	
3	Собор Воскресения Христова в Покровском монастыре	Поминки о взятии Иерусалима
4	Собор Василия Блаженного	

9. Задания на анализ карты. Внимательно рассмотрите схему и выполните задания. Ответы внесите в таблицу. По 1 баллу за каждое предложение с верными вставками. Всего 6 баллов.



А) На карте отражён ход \_\_\_\_\_ битвы, состоявшейся в \_\_\_\_\_ году.

Б) Реки, обозначенные цифрами \_\_\_\_\_ и \_\_\_\_\_, – это Непрядва и Дон соответственно.

В) Полк, обозначенный цифрой \_\_\_\_\_, не выдержал натиска вражеской конницы и стал отходить к Непрядве

Г) Полком, обозначенным цифрой \_\_\_\_\_, командовали серпуховской князь Владимир Андреевич и воевода Дмитрий Михайлович Боброк-Волынский.

Д) В полку, обозначенном цифрой \_\_\_\_\_, сражался переодетый в великокняжеские доспехи боярин Михаил Бренок.

Е) Войсками, ставка которых обозначена цифрой 3, командовал \_\_\_\_\_.